



Федеральное государственное бюджетное образовательное  
учреждение высшего образования  
«Российский государственный гидрометеорологический университет»

Задания отборочного тура олимпиады РГГМУ по географии  
«Земля – наш общий дом!» 2023

9-11 класс

Утверждаю  
Председатель методической комиссии

 О.В. Хаймина

«26» сентября 2022

Уважаемые участники олимпиады! Перед вами задания отборочного тура олимпиады  
РГГМУ по географии «Земля – наш общий дом!».

Задания адресованы участникам классов 9-11 классов.


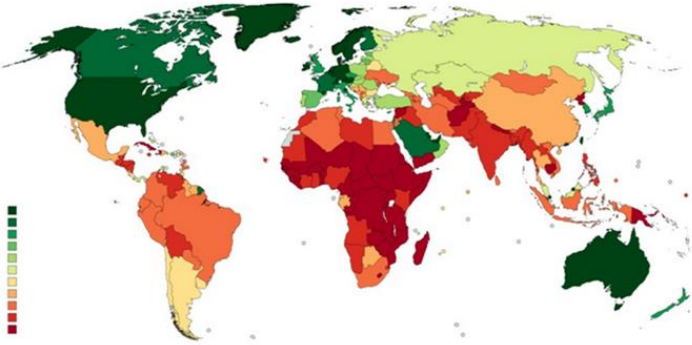
Продолжительность отборочного тура – 1 астрономический час (60 минут).

Желаем удачи!

№ задания	Задание	Правильный ответ	Балл
1	В экранизации Г. Юнгвальд-Хилькевича известного романа А. Дюма "Три мушкетера" звучит песня: "Бургундия, Нормандия, Шампань или Прованс И в ваших жилах тоже есть огонь, Но умнице фортуне ей-богу не до вас, Пока на белом свете есть Гасконь." А какой статус сейчас у перечисленных в песне территорий?	Регион	1
2	Сопоставьте мореплавателей и связанные с ними географические объекты 1. Бартоломеу Диаш 2. Семён Дежнёв 3. Васко да Гама 4. Джеймс Кук 5. Христофор Колумб 6. Уильям Баффин А. Берингов пролив Б. Гавайские острова В. Остров Тобаго Г. Мыс Доброй Надежды Д. Архипелаг Чагос Е. Залив Мелвилл	1Г 2А 3Д 4Б 5В 6Е	1
3	Назовите остров в Ирландском море, расположенный на примерно одинаковом расстоянии от Англии, Шотландии, Уэльса и Ирландии, на котором действует	3	1



Разработал	Член методической комиссии	Анискина Ольга Георгиевна Волощук Екатерина Васильевна Королькова Светлана Витальевна Соколова Александра Александровна Шевчук Олег Игоревич	9-11 класс
Олимпиада РГГМУ по географии «Земля – наш общий дом!» 2023			Стр. 1 из 12



	один из старейших парламентов в мире (с 979 г.) 1. Исландия 2. Гернси 3. Мэн 4. Джерси		
4	Перед вами карта Мира. Как видно, бóльшая часть государств относится к одному типу. Какой показатель лежит в основе составленной карты? 	Форма правления	1
5	Укажите известные большим количеством эндемиков острова, исследования на которых послужили толчком к созданию эволюционной теории происхождения видов Чарльзом Дарвином: 1. Азорские 2. Фолклендские 3. Гавайские 4. Галапагосские 5. Маршалловы	4	1
6	Перед вами карта Мира. Красным цветом обозначены страны с низкими значениями характеристики, темно-зеленые - с высокими. Какой экономический показатель лежит в основе составленной карты? 	ВВП на душу населения	2

Разработал	Член методической комиссии	Анискина Ольга Георгиевна Волощук Екатерина Васильевна Королькова Светлана Витальевна Соколова Александра Александровна Шевчук Олег Игоревич	9-11 класс
Олимпиада РГГМУ по географии «Земля – наш общий дом!» 2023			Стр. 2 из 12




7	<p>Сопоставьте архитектурные объекты и города, в которых они располагаются</p> <p>1. </p> <p>2. </p>	1Д 2Е 3В 4Г 5Б 6А	1
---	---	----------------------	---

<i>Разработал</i>	<i>Член методической комиссии</i>	<i>Анискина Ольга Георгиевна Волощук Екатерина Васильевна Королькова Светлана Витальевна Соколова Александра Александровна Шевчук Олег Игоревич</i>	<i>9-11 класс</i>
Олимпиада РГГМУ по географии «Земля – наш общий дом!» 2023			<i>Стр. 3 из 12</i>



3.



4.



5.



*Разработал*

*Член методической комиссии*

*Анискина Ольга Георгиевна  
Волощук Екатерина Васильевна  
Королькова Светлана Витальевна  
Соколова Александра Александровна  
Шевчук Олег Игоревич*


*9-11 класс*



Федеральное государственное бюджетное образовательное  
учреждение высшего образования  
«Российский государственный гидрометеорологический университет»

Задания отборочного тура олимпиады РГГМУ по географии  
«Земля – наш общий дом!» 2023

9-11 класс

			
6.	<p>А. Ватикан Б. Вена В. Париж Г. Лондон Д. Барселона Е. Кельн</p>		
8	<p>В честь какого президента США, при котором началось переселение освобожденных рабов в Африку, названа столица одного из африканских государств? 1. Томас Джефферсон 2. Джеймс Мэдисон 3. Джеймс Монро 4. Джон Куинси Адамс</p>	3	1
9	<p>Из предложенного списка стран выберите те, у которых столица не является крупнейшим городом страны по населению: 1. Румыния 2. Канада 3. Мексика 4. Китай 5. ЮАР 6. Иран 7. Турция 8. Австралия 9. Эфиопия 10. Египет 11. Нигерия 12. Буркина-Фасо 13. Марокко 14. Бразилия</p>	2, 4, 5, 7, 8, 11, 13, 14	8

<i>Разработал</i>	<i>Член методической комиссии</i>	<i>Анискина Ольга Георгиевна Волощук Екатерина Васильевна Королькова Светлана Витальевна Соколова Александра Александровна Шевчук Олег Игоревич</i>	<i>9-11 класс</i>
Олимпиада РГГМУ по географии «Земля – наш общий дом!» 2023			<i>Стр. 5 из 12</i>



Федеральное государственное бюджетное образовательное  
учреждение высшего образования  
«Российский государственный гидрометеорологический университет»


Задания отборочного тура олимпиады РГГМУ по географии  
«Земля – наш общий дом!» 2023

9-11 класс

	15. Аргентина		
10	Сопоставьте прежние и современные названия российских городов: 1. Ульяновск 2. Екатеринбург 3. Самара 4. Волгоград 5. Пермь 6. Тверь А. Калинин Б. Сталинград В. Молотов Г. Симбирск Д. Куйбышев Е. Свердловск	1Г 2Е 3Д 4Б 5В 6А	1
11	Перед вами фрагмент экспозиции одного из выставочных залов Кунсткамеры. Напишите название страны, которой посвящена эта экспозиция.	Монголия	1

<i>Разработал</i>	<i>Член методической комиссии</i>	<i>Анискина Ольга Георгиевна Волощук Екатерина Васильевна Королькова Светлана Витальевна Соколова Александра Александровна Шевчук Олег Игоревич</i>	<i>9-11 класс</i>
Олимпиада РГГМУ по географии «Земля – наш общий дом!» 2023			<i>Стр. 6 из 12</i>



			
12	Выберите из списка ниже государства с монархической формой правления: 1. Болгария 2. Великобритания 3. Италия 4. Германия 5. Франция 6. Бельгия 7. Дания 8. Финляндия 9. Греция 10. Швеция 11. Румыния 12. Австрия	2, 6, 7, 10	4
13	Героиня сказки Ганса Христиана Андерсена «Дикае лебеди» Элиза видит следующее явление: «...чудный, вечно изменяющийся облачный замок .....». Элиза посмотрела снова и увидела, что «... горы, леса и замок сдвинулись вместе, и из них образовались двадцать одинаковых величественных церквей с колокольнями и	2	1

<i>Разработал</i>	<i>Член методической комиссии</i>	<i>Анискина Ольга Георгиевна Волощук Екатерина Васильевна Королькова Светлана Витальевна Соколова Александра Александровна Шевчук Олег Игоревич</i>	<i>9-11 класс</i>
<i>Олимпиада РГГМУ по географии «Земля – наш общий дом!» 2023</i>			<i>Стр. 7 из 12</i>



	<p>стрельчатыми окнами. .... Теперь церкви были совсем близко, но вдруг превратились в целую флотилию кораблей..... Да, перед глазами у неё были вечно сменяющиеся воздушные образы и картины» Какое атмосферное явление увидела Элиза? 1. Гало 2. Фата-моргана 3. Огни святого Эльма 4. Мираж</p>		
14	<p>Из представленных объектов выберите вещество, которое в природе образует натечные формы – сталактиты и сталагмиты:</p> <p>А Б В Г</p>	В	1
15	<p>Выберите из списка топонимы, относящиеся к <b>Евразии</b>, и распределите их по группам: Ньяса, Большое Медвежье, Пасхи, Оранжевая, Чогори, Столовая, Халкин-Гол, Ханка, Тонлесап, Замбези, Майотта, Денали, Родос, Муррей, Титикака, Белуха, Гудзон, Висла, Ольхон, Селенга, Балхаш, По, Эйр, Казбек, Косцюшко, Гурон, Уруп, Балатон, Арарат, Капри, Аннапурна, Чаны, Сааремаа, Рашмор, Индигирка, Чад, Вольта, Парана, Кергелен, Мадейра</p>	<p>Евразия 5, 7, 8, 9, 13, 14, 16, 18, 20, 21, 23, 24, 25, 26, 27, 29, 32, 38, 39, 40 Острова 13,16,20,24,38 Горы 5, 14, 21, 32, 40 Озёра</p>	20

Разработал	Член методической комиссии	<p>Анискина Ольга Георгиевна Волощук Екатерина Васильевна Королькова Светлана Витальевна Соколова Александра Александровна Шевчук Олег Игоревич</p>	9-11 класс
Олимпиада РГГМУ по географии «Земля – наш общий дом!» 2023			Стр. 8 из 12






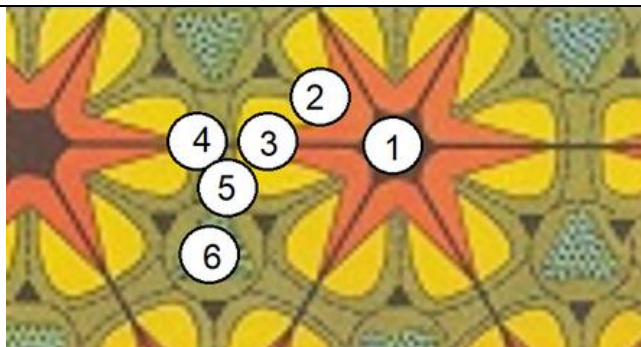
Федеральное государственное бюджетное образовательное  
учреждение высшего образования  
«Российский государственный гидрометеорологический университет»

Задания отборочного тура олимпиады РГГМУ по географии  
«Земля – наш общий дом!» 2023

9-11 класс

		8,9,18,26,39 Реки 7,23,25,27,29	
16	<p>На карте отметьте самое густонаселенное государство, в котором большинство населения исповедует ислам.</p> 	Индонезия	1
17	<p>Расставьте заповедники России по росту максимальных абсолютных отметок высот А) Даурский; Б) Печоро-Илычский; В) Дарвинский; Г) Камчатский; Д) Алтайский; Е) Остров Врангеля Ответ запишите в виде последовательности букв без пробелов и запятых.</p>	В А Е Б Г Д	12
18	<p>На схеме поляризованного ландшафта Б. Б. Родмана показаны городские центры, промышленные и сельскохозяйственные зоны, пути сообщения, природные территории, используемые для рекреации и охраны природного наследия.</p>	А5 Б6 В2 Г3 Д1 Е4	15

<i>Разработал</i>	<i>Член методической комиссии</i>	<i>Анискина Ольга Георгиевна Волощук Екатерина Васильевна Королькова Светлана Витальевна Соколова Александра Александровна Шевчук Олег Игоревич</i>	<i>9-11 класс</i>
Олимпиада РГГМУ по географии «Земля – наш общий дом!» 2023			<i>Стр. 9 из 12</i>



- А. Определите, где могут находиться ООПТ  
Б. Определите, где могут находиться заповедники  
В. Определите, где может находиться основная жилая застройка  
Г. Определите, где могут находиться промышленные и сельскохозяйственные объекты  
Д. Определите, где могут находиться центры культурного досуга, музеи, исторические постройки  
Е. Определите, где может находиться зона организованной рекреации

19

- В промышленной зоне города Череповца планируется размещение нового предприятия.  
В каких метеорологических обстановках новое производство, связанное с техногенными выбросами в атмосферу, окажет наибольшее влияние на состояние атмосферного воздуха в жилой застройке районов города:
- 1) Индустриальный район (правый берег реки Шексны до железной дороги);
  - 2) Северный район;
  - 3) Заягорбский район;
  - 4) Зашекснинский район.

1Г 2Г 3Г 4В

4

<i>Разработал</i>	<i>Член методической комиссии</i>	<i>Анискина Ольга Георгиевна Волощук Екатерина Васильевна Королькова Светлана Витальевна Соколова Александра Александровна Шевчук Олег Игоревич</i>	<i>9-11 класс</i>
Олимпиада РГГМУ по географии «Земля – наш общий дом!» 2023			<i>Стр. 10 из 12</i>



Федеральное государственное бюджетное образовательное  
учреждение высшего образования  
«Российский государственный гидрометеорологический университет»

Задания отборочного тура олимпиады РГГМУ по географии  
«Земля – наш общий дом!» 2023

9-11 класс

	 <p>1. Индустриальный район 2. Северный район 3. Заягорбский район 4. Зашекснинский район А. при юго-западном ветре Б. при южном ветре В. при северо-западном ветре Г. при западном ветре; Д. при северо-восточном ветре Е. при северном ветре</p>		
20	<p>На рисунках А, Б, В схематически изображена планета. Ответьте на вопросы:</p> <ol style="list-style-type: none"><li>что означает на рис. А цифра <math>23^{\circ}27'</math> (<math>23,5^{\circ}</math>);</li><li>что означают окружности, показанные синим цветом на рис. А;</li><li>что означают окружности, показанные красным цветом на рис. А;</li><li>как изменится динамика природных явлений, если угол увеличится от <math>23,5^{\circ}</math> до <math>45^{\circ}</math> (рис. Б);</li><li>как изменится динамика природных явлений, если угол уменьшится от <math>23,5^{\circ}</math> до <math>0^{\circ}</math> (рис. В).</li></ol>	1) угол наклона оси вращения Земли относительно перпендикуляра к её орбитальной плоскости; 2) полярные круги; 3) тропики; 4) сезонные колебания климата будут выражены сильнее;	1 1 1 3

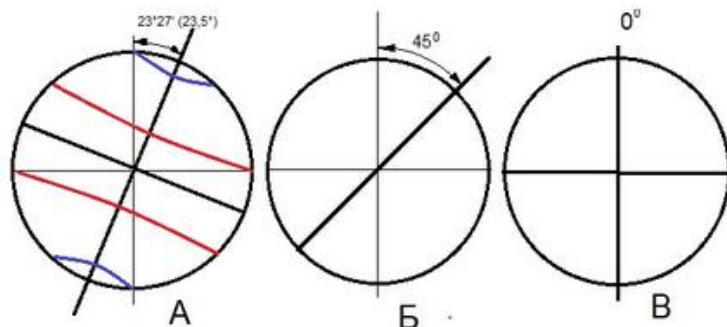
Разработал	Член методической комиссии	Анискина Ольга Георгиевна Волощук Екатерина Васильевна Королькова Светлана Витальевна Соколова Александра Александровна Шевчук Олег Игоревич	9-11 класс
Олимпиада РГГМУ по географии «Земля – наш общий дом!» 2023			Стр. 11 из 12



Федеральное государственное бюджетное образовательное  
учреждение высшего образования  
«Российский государственный гидрометеорологический университет»

Задания отборочного тура олимпиады РГГМУ по географии  
«Земля – наш общий дом!» 2023

9-11 класс



Максимальный балл за задание – 9 баллов

5) сезонных  
колебаний  
климата не  
будет.

3

<i>Разработал</i>	<i>Член методической комиссии</i>	<i>Анискина Ольга Георгиевна Волощук Екатерина Васильевна Королькова Светлана Витальевна Соколова Александра Александровна Шевчук Олег Игоревич</i>	<i>9-11 класс</i>
Олимпиада РГГМУ по географии «Земля – наш общий дом!» 2023			<i>Стр. 12 из 12</i>